



**1. Lis attentivement les informations et colorie les voitures de la bonne couleur.**

a) Les voitures sont classées dans l'ordre croissant (de celle qui a le moins roulé à celle qui a le plus roulé).



La voiture jaune a moins roulé que la voiture rouge.  
La voiture rouge a moins roulé que la voiture bleue.

b) Les voitures sont classées dans l'ordre décroissant (de celle qui a le plus roulé à celle qui a le moins roulé).



La voiture rouge a plus roulé que la voiture jaune.  
La voiture jaune a plus roulé que la voiture bleue.

**2. Lis attentivement les informations et répond aux questions**

Le 18 février :  
Il a fait moins froid à Nantes qu'à Strasbourg.  
Il a fait moins froid à Lille qu'à Nantes.

a) Dans quelle ville a-t-il fait le moins chaud ? \_\_\_\_\_

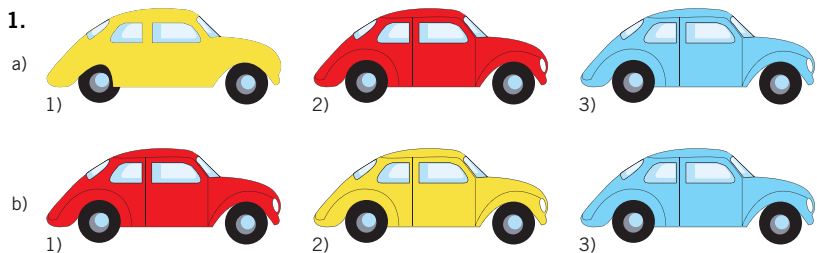
b) Dans quelle ville a-t-il fait le moins froid ? \_\_\_\_\_

Le 18 février :  
Il a fait moins froid à Nice qu'à Lille.

c) Classe les 4 villes en fonction de la température du 18 février (du moins froid au plus froid).



**Corrigé pour les parents**



2. a) Strasbourg,  
b) Lille  
c) Nice, Lille, Nantes, Strasbourg